



**Úlohy:**


**1. Zapište dané tóny v huslovom klúči v polových hodnotách:**



$d^1$   $g^2$   $c^3$   $es^2$   $fis^1$   $h$   $as$   $des^3$



$b^1$   $fisis^2$   $his$   $ges^1$   $disis^1$   $fes$   $cisis^2$   $e^3$

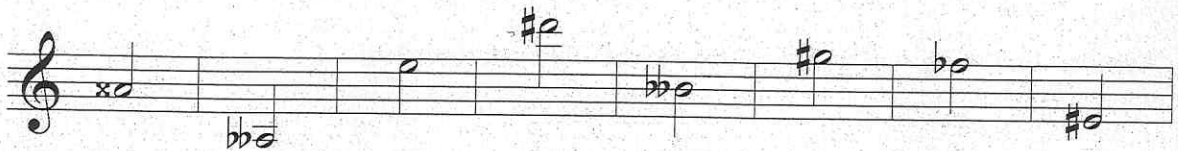


$c^4$   $gis$   $c^2$   $asas^1$   $his^2$   $heses$   $ces^1$   $eis^1$

**2. Pomenujte dané noty:**



$G\#^4$   $Bb^3$   $D\#^4$   $Fb^4$   $G\#^4$




$G\#^4$   $Bb^3$   $D\#^4$   $Fb^4$   $G\#^4$




$Bb^3$   $G\#^4$   $D\#^4$   $Fb^4$   $G\#^4$


**3. Zapište dané tóny v osminových hodnotách v basovom klúči:**



$d$   $fis^1$   $H$   $cisis$   $des^1$   $b$   $A_1$   $Ges$



$eses$   $Eis$   $g$   $ces^1$   $Hes_1$   $aisis$   $e^1$   $fis$



$As$   $Gis_1$   $eis$   $as$   $Fes$   $gisis$   $E_1$   $hisis$



2. Napíšte k daným stupniciam počet posuviek (napr. 2#):

A dur	cis mol	dis mol
Fis dur	Es dur	Cis dur
G mol	a mol	f mol
F dur	E dur	es mol

3. Zapíšte predznamenanania jednotlivých stupníc do notovej osnovy:

G dur                      As dur                      E dur                      Ges dur                      A dur

h mol                      c mol                      fis mol                      b mol                      dis mol

4. K danému počtu predznamenaní napíšte príslušnú durovú i molovú stupnicu:

3 #	4b	1b
6 #	3b	7 #

5. Napíšte ~~enharmonické stupnice~~ <sup>POČET POSUVIEK</sup> k daným stupniciam:

Fis dur	6#	D dur	H dur
E mol		gis mol	eis mol
C dur		A dur	Gis dur
Cis# mol		dis mol	his mol

6. Ktoré molové stupnice majú:

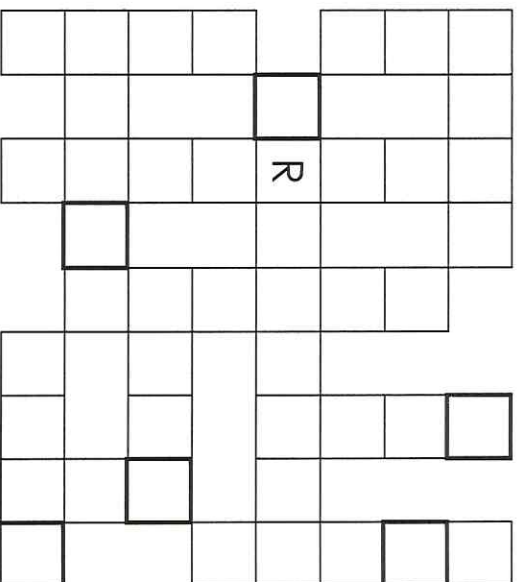
4 posuvky	2 posuvky	6 posuviek
-----------	-----------	------------

Otázky:

1. Charakterizujte melodické ozdoby.
2. Aké druhy melodických ozdôb poznáme? Charakterizujte ich.
3. Akými spôsobmi značíme melodické ozdoby v skladbe?
4. Na čo slúžia opakovacie znamienka?

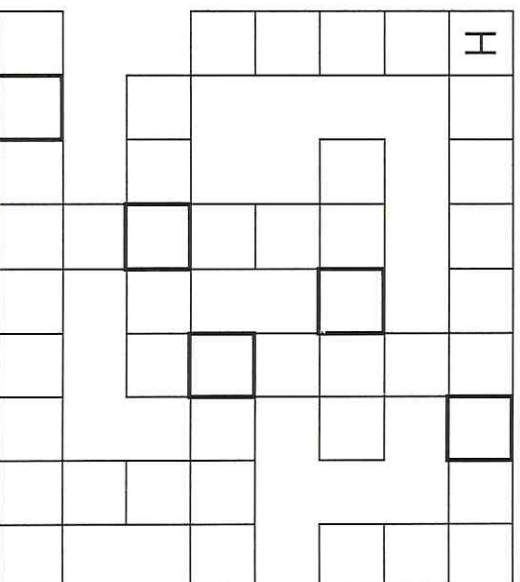
## Dve hudobné krížovky

ALT TAKT  
 FLAUTA TÓN  
 GONG TRIANGEL  
 KLARINET TUBA  
 NOTA VIOLA  
 OPERA ZBOR



TAJNIČKA: \_\_\_\_\_

ALT PIKOLA  
 HOBOJ STRUNA  
 HUSLISTKA TAKT  
 NOTA VIOLA  
 OPERA  
 ORGANISTA



TAJNIČKA: \_\_\_\_\_

## Hádanky

Doplní vetty pomocou uvedených slov z nápovede. Z týchto slov je správnych len trindsiť.

GITARA, NÁTRUBOK, BUBON, LADIČ, HARFA, SOPRÁN, KLARINET, ALI, FLAUTISTKA, TENOR, BAS, ORCHESTER, NOTA, KÁNON, DIRIGENT, POZAUNA, KLAVÍR, TAKTOVKA, VIOLA, PISEŇ

- \_\_\_\_\_ je dychový plechový nástroj.
- \_\_\_\_\_ je bicí nástroj.
- \_\_\_\_\_ je hlboký mužský hlas.
- \_\_\_\_\_ je strunový brnkací nástroj.
- Symfonický a komorný \_\_\_\_\_
- \_\_\_\_\_ je dychový drevený nástroj.
- \_\_\_\_\_ je strunový úderový nástroj s klávesami.
- \_\_\_\_\_ je sláčikový nástroj podobný husliam.
- \_\_\_\_\_ je nízky ženský hlas.
- \_\_\_\_\_ je druh dvojhlásného spevu.
- \_\_\_\_\_ je vysoký mužský hlas.
- Kto riadi (vedie) orchester na koncerte? \_\_\_\_\_
- \_\_\_\_\_ je strunový brnkací nástroj, väčší ako gitara.